

Қазақстан Республикасы Тәуелсіздігінің 30 жылдығына арналған
BILIMMEN олимпиадасы
Олимпиада BILIMMEN в честь 30 - летия Независимости Республики
Казахстан

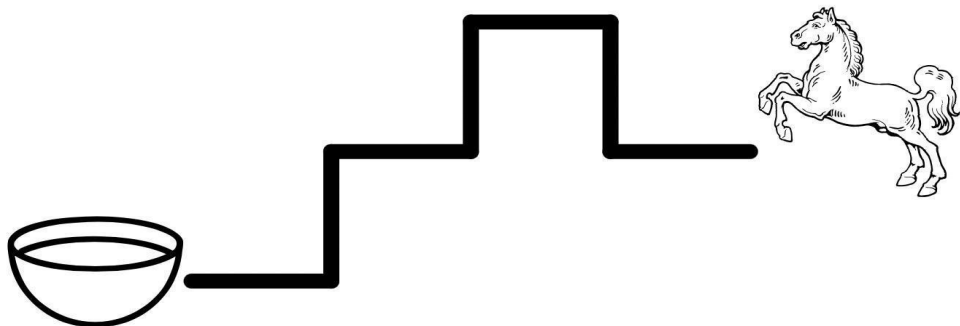
1-сынып/1 класс

1. Адели ҚАЗАҚСТАН сөзін екі рет жазды. Ол "А" әрпін неше рет қолданды?

Адели дважды написала слово ҚАЗАҚСТАН. Сколько раз она использовала букву "А"?

2. Суретте аттың су құйылған ыдысқа барған жолы көрсетілген. Ол неше рет солға бұрылды?

На рисунке показан путь, по которому лошадка шла к посуде с водой. Сколько раз она поворачивала налево?




3. Айырманың мәні 22-ге, ал азайғыш 50-ге тең болса, азайтқыштың мәні қаншаға тең?

Разность равна 22, а уменьшаемое – 50, тогда чему равно вычитаемое?

4. Төменде берілген нұсқалардың қайсысы қоянның сәбізге жетуіне көмектеседі? (жауапта дұрыс нұсқа нөмірін жазыңыз)

Какой вариант пути из стрелок поможет кролику добраться до морковки? (в ответе напишите номер варианта)



- 1) ↑ ← ↑ ← ← ↑ ← ← ↑ ↑
- 2) ↑ ↑ ← ← ← ← ↑ → ↑ →
- 3) ← ← ← ← ← ↑ ↑ → ↑ ↑
- 4) ↑ ↑ ↑ → → → → → ↑ →

5. Әр тастың бетінде оның салмағы граммен жазылған. Тепе-теңдік сақталатындай, оң жаққа салмағы неше граммға тең тасты салу керек?

На каждом камне написано, сколько граммов он весит. Камень с каким весом в граммах нужно вставить справа, чтобы уравновесить?



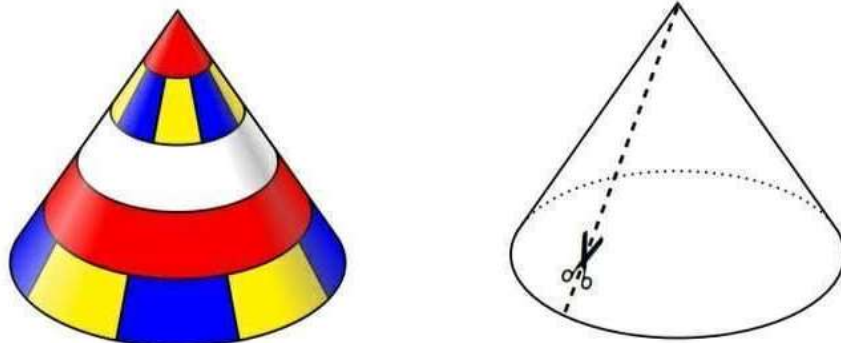
6. *Ая жануарларды белгілі бір тәртіппен сұрақ белгісіне дейін (сұрақ белгісін қоса санағанда) орналастырды. Суретте торайларға қарағанда сиырлардың саны нешеге көп?*

Ая расположила животные в определенном порядке до вопросительного знака (включительно). На сколько коров на рисунке больше, чем поросыат?



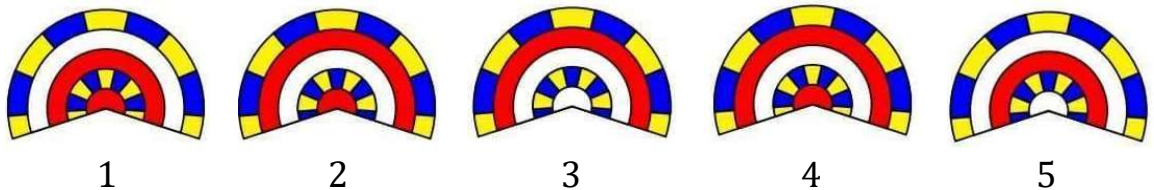
7. *Нұрдәулеттің туған күніне арналған мерекеде ол және оның достары конус пішіндес картон бас киімдер киді. Туған күннен кейін Нұрдәулет бас киімді оң жақтағы суретте көрсетілгендей қиып тастады.*

На празднике в честь дня рождения Нурдаулета он и его друзья надели картонные шапочки в форме конуса. После дня рождения Нурдаулет разрезал шапочку так, как показано на рисунке справа.



Төмендегі нұсқалардың қайсысы бас киімнің жазыңқы түріне сәйкес келеді? (жауапта дұрыс нұсқа нөмірін жазыңыз)

Какой из перечисленных ниже вариантов соответствует развернутому положению шапочки? (в ответе напишите номер варианта)



11. *Данагүл BILIMMEN сөзін торкөз дәптерге жазды. Әр әріп бір торкөздің ішіне сияды, ал әрбір М әрпі екі торкөзге жазылды. Егер 1 торкөз 5 мм болса, BILIMMEN сөзінің ұзындығы қанша см-ге тең?*

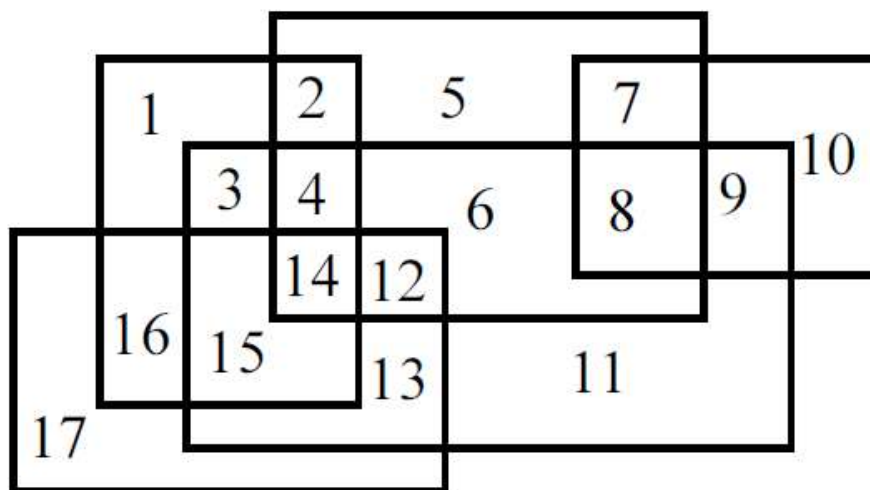
Данагуль написала слово BILIMMEN в тетрадку в клеточку так, что каждая буква была внутри одной клетки, кроме букв М. Каждая буква М занимает две клеточки. Найдите длину слова BILIMMEN в см, если 1 клетка это 5 мм.

12. *Бауырсақ BILIMMEN сөзінің бірінші әрпінде отыр. Ол келесідей қозғала алады: 3 рет алға, 1 рет артқа, 3 рет алға, 1 рет артқа және тағы сол сияқты секіреді. Қанша секіруден кейін бауырсақ сөздің соңғы әрпіне жетеді?*

Колобок находится на первой букве слова BILIMMEN. А передвигаться он может таким образом: 3 прыжка вперёд, 1 прыжок назад, 3 прыжка вперёд, 1 прыжок назад и так далее. Через сколько прыжков колобок дойдёт до последней буквы слова?

13. *Партада бес парақ бар. Дәл үш параққа ортақ болатын бөліктердің нөмірлерін белгілеңіз.*

На парте лежат пять листов бумаги. Отметьте номера тех частей, которые общие ровно для трех листов бумаги.



14. Төмендегі пазлдың қанша бөлшегін алып тастағанда пазлдағы қалған бөлшектердің санын Сания, Аяжан, Саида және Әйгерім арасында теңдей бөлуге болады?

Сколько деталей пазла ниже можно удалить, чтобы оставшееся количество можно было поровну поделить между Санией, Аяжан, Саидой и Айгерим?



15. 4 баланың кейбіреулері бір-бірімен қол алысты: Әмір 3 рет, Самат 2 рет, Жандос 2 рет. Болат қанша рет қол алысты?

Некоторые из 4 ребят обменялись рукопожатиями. Амир сделал 3 рукопожатия, Самат - 2, Жандос - 2. Сколько рукопожатий сделал Болат?